

## REDACTIESOMMEN 15

Omcirkel het goede antwoord

- Alette wint bij het knikkeren. Ze heeft dan 52 knikkers. Dat is 4 keer zoveel als Inge.  
Hoeveel knikkers hebben Alette en Inge samen?

A. 208  
B. 117  
C. 65  
D. 39
- Mijn nichtje is over 40 dagen jarig. Het is nu 29 juli.  
Wanneer is mijn nichtje jarig?

A. 7 september  
B. 29 september  
C. 10 september  
D. 8 september
- Welk tv-programma duurt het langst?

Oranga Splijt	18.55 - 19.45
Benny Boemerang	20.25 - 21.05
Hier Wonen	21.20 - 22.05
Actualiteiten	22.35 - 23.10

A. Hier Wonen  
B. Oranga Splijt  
C. Actualiteiten  
D. Benny Boemerang
- Een 15-badenkaart voor het zwembad kost € 25,-  
Een jaar later betaal je voor dezelfde kaart € 30,-.  
Hoeveel procent is de kaart duurder geworden?




A. 15%  
B. 20%  
C. 18%  
D. 5%
- In de voorjaarsvakantie gaan we skiën in Oostenrijk.  
Moeder zit  $\frac{3}{5}$  deel van de rit achter het stuur. Vader stuurt de rest van de rit. Dat is 370 km.  
Hoe groot is de totale afstand die we moeten afleggen?

A. 592 km  
B. 518 km  
C. 925 km  
D. 555 km
- Eén machine vult per minuut 25 flessen limonade. In de fabriek staan 5 zulke machines. Die draaien 8 uur per dag.  
Hoeveel flessen limonade worden er per dag gevuld?

A. 1000  
B. 12000  
C. 60000  
D. 7500
- In de voetbaltoto verdelen 5 mensen een prijs van € 86.550,-.  
Hoeveel zou het per persoon schelen als de prijs door 3 mensen gedeeld moest worden?

A. € 10.818,75  
B. € 28.850,-  
C. € 17.310,-  
D. € 11.540,-
- Een tv kost € 1575,- . In de uitverkoop krijg je een korting van  $11\frac{1}{9}\%$ . Bij inruil van een oude tv gaat er nog eens € 50,- vanaf. Hoeveel moet je nu voor de tv betalen?

A. € 1368,-  
B. € 1430,-  
C. € 1525,-  
D. € 1350,-
- Elk huis stelt 100 huizen voor

1998		In Balem wordt flink gebouwd. Vergelijk de nieuwbouw van 1999 met die van 1998. Met hoeveel procent is de nieuwbouw toegenomen?
1999		
2000		

A.  $33\frac{1}{3}\%$   
B. 75 %  
C. 30 %  
D. 70 %
- Mijn moeder wil zich abonneren op een weekblad.  
Zij kan kiezen uit:

Narcis	kost € 1,45 per week
Vlinder	kost € 6,80 per maand
Regenboog	kost € 19,90 per kwartaal
Driehoek	kost € 76,- per jaar

Welk blad is over een jaar gerekend het goedkoopst?

A. Narcis  
B. Regenboog  
C. Driehoek  
D. Vlinder

Aantal sommen goed . .

